

# **Proyecto Biblos**


# **Cartilla de actividades #1**

**Versión 1.1**  
**04/10/2017**

# Crucigrama

## CONSIGNA

Escribir en la grilla las definiciones. Al finalizar, indicar donde se obtuvo la información para realizar la consigna.



### Horizontal

- 3. Capital del Líbano
- 4. Símbolo nacional del Líbano

### Vertical

- 1. Apellido del escritor libanés autor del libro 'El Profeta'
- 2. Idioma oficial del Líbano
- 5. Danza folclórica del Líbano

### Lugares donde se obtuvo la ayuda necesaria para resolver la consigna:

- \*
- \*
- \*
- \*
- \*
- \*
- \*
- \*
- \*
- \*
- \*

# Relacionar conceptos

## CONSIGNA

Une con una línea las preguntas escritas en los rectángulos, con las repuestas correctas que están en las elipses. Al finalizar, indicar donde se obtuvo la información para realizar la consigna.

Trípoli

Cedro

**1**  
¿Cuál es la capital del Líbano?

Gibran

Libanés

**2**  
¿Cuál es el símbolo nacional del Líbano?

Pino

Beirut

**3**  
¿Cuál es el apellido del escritor libanés autor de 'El Profeta'?

Dabke

Hagalla

**4**  
¿Cuál es el idioma oficial del Líbano?

Árabe

Kahlil

**5**  
¿Cuál es la danza folclórica del Líbano?

**Lugares donde se obtuvo la ayuda necesaria para resolver la consigna:**

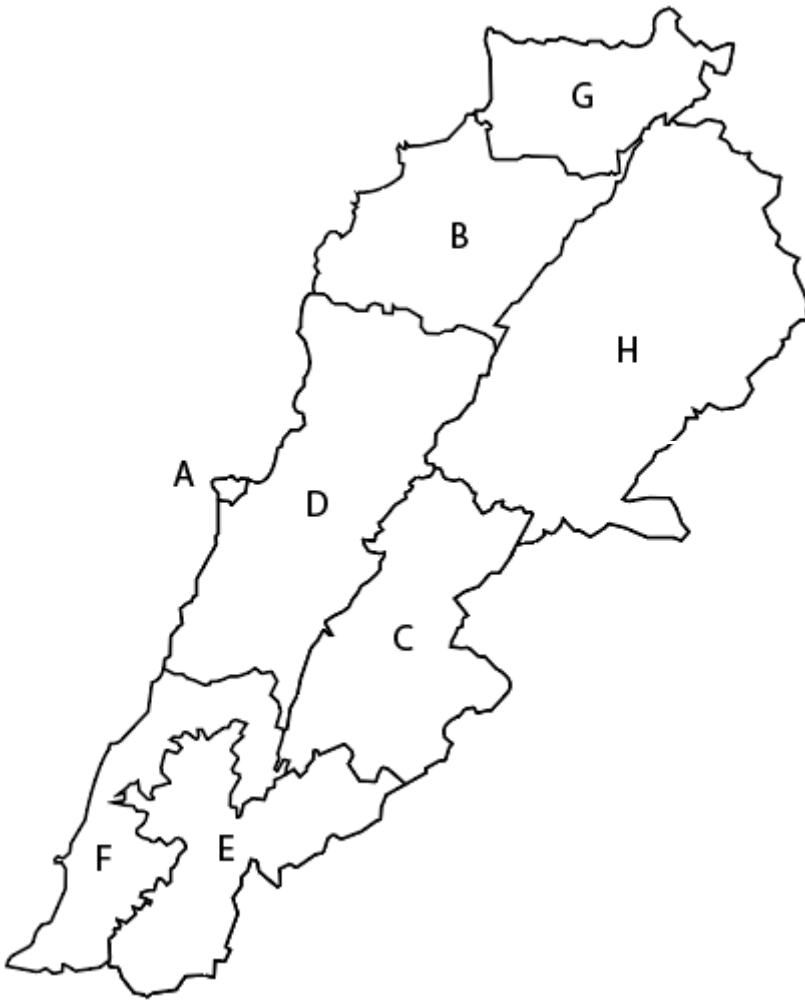
- \*
- \*
- \*
- \*
- \*
- \*
- \*
- \*
- \*

# Mapa del Líbano

## CONSIGNA

Escribir el nombre de las ocho gobernaciones del Líbano.

Al finalizar, indicar donde se obtuvo la información para realizar la consigna.



A: \_\_\_\_\_

B: \_\_\_\_\_

C: \_\_\_\_\_

D: \_\_\_\_\_

E: \_\_\_\_\_

F: \_\_\_\_\_

G: \_\_\_\_\_

H: \_\_\_\_\_

## Lugares donde se obtuvo la ayuda necesaria para resolver la consigna:

- \*
- \*
- \*
- \*
- \*
- \*
- \*
- \*
- \*
- \*

# Gobernaciones del Líbano

## CONSIGNA

Encuentra en la sopa de letras el nombre de las ocho gobernaciones del Líbano.  
Al finalizar, indicar donde se obtuvo la información para realizar la consigna.



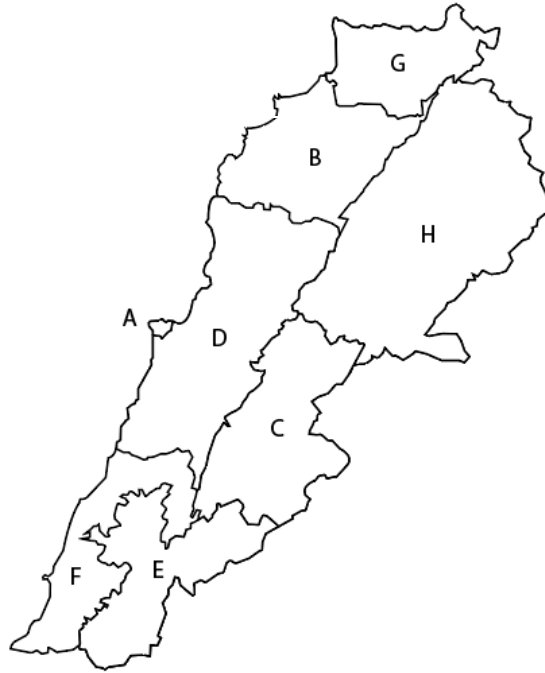
**Lugares donde se obtuvo la ayuda necesaria para resolver la consigna:**

- \*
- \*
- \*
- \*
- \*
- \*
- \*
- \*
- \*
- \*
- \*
- \*

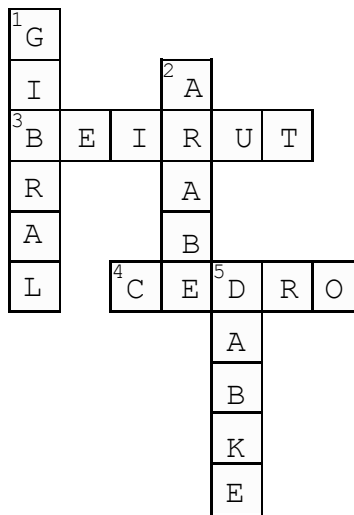
# SOLUCIONES

## MAPA DEL LÍBANO

- A: Beirut
- B: Norte
- C: Bekaa
- D: Monte Líbano
- E: Nabatiye
- F: Sur
- G: Akkar
- F: Baalbek-Hermel



## CRUCIGRAMA



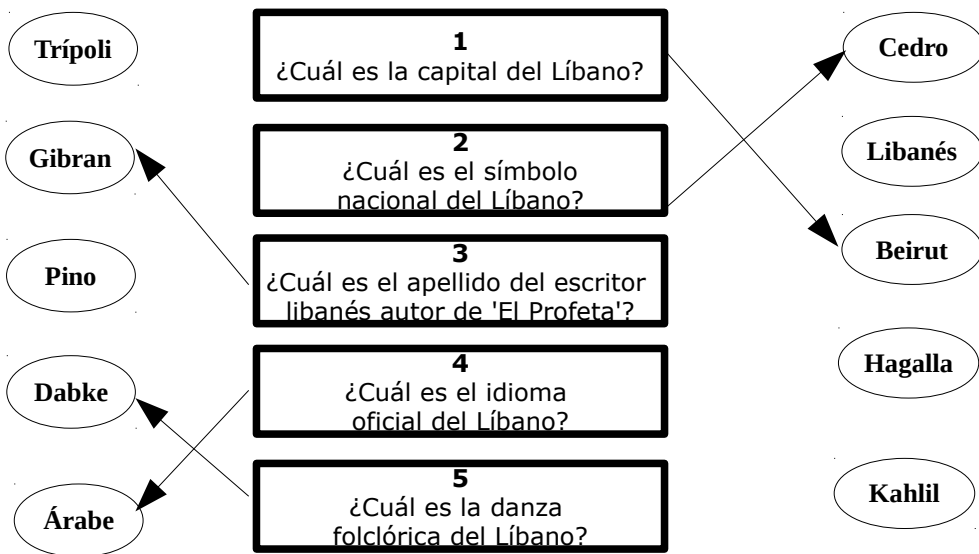
# SOLUCIONES

## GOBERNACIONES DEL LÍBANO

Beirut  
 Norte  
 Bekaa  
 Monte-Líbano  
 Nabatiye  
 Sur  
 Akkar  
 Baalbek-Hermel



## RELACIONAR CONCEPTOS



## CRÉDITOS



<http://yabala.org/yabala/www/collections/biblos-cartilla-1>